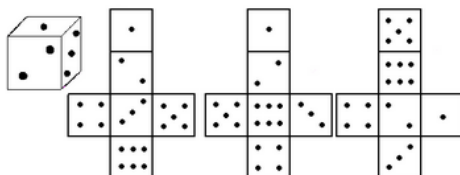


Matteklubben


Vårterminen 2015, lektion 4

Kuber

1. Vilka utvecklingar är korrekta och vilka felaktiga?



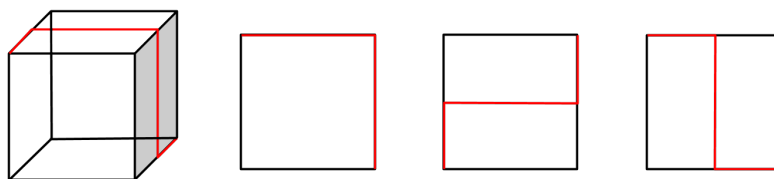
2. Hur många kuber består var och en av konstruktionerna av?



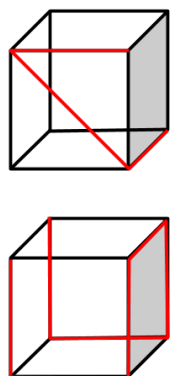
3. Hur många röda kuber kan det som mest finnas i konstruktionen?



4. I en glaskub sitter en röd metalltråd, som det syns på första bilden. De andra tre bilderna visar hur kuben ser ut framifrån, uppifrån och högerifrån.



För varje kub, rita hur kuben ser ut ur de tre synvinklarna.



5. Någon antecknade fiskens bana i ett akvarium sett framifrån och någon annan ritade banan sett högerifrån. Hur såg fiskens bana ut om man kollade uppifrån?

