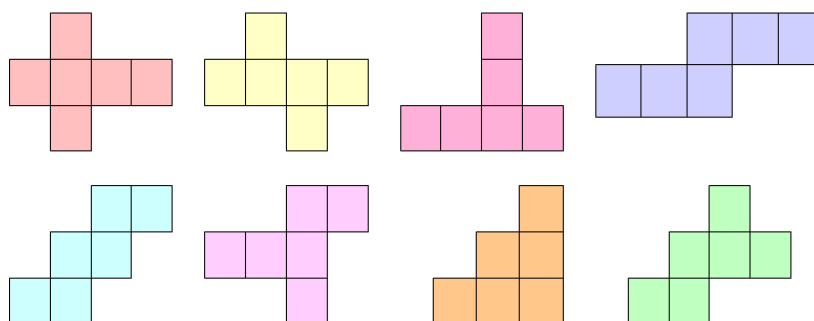


Matteklubben

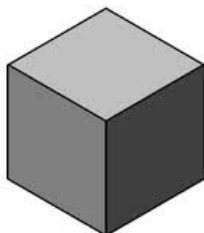
2014-10-21

Utvikningar

1. Vilka av figurerna på bilden kan vecklas ihop till en kub?



2. Hitta på en annan utvikning till en kub och tillverka den. Kubens sidor är 6 cm långa. Klipp ut din utvikning och testa den på kuben.

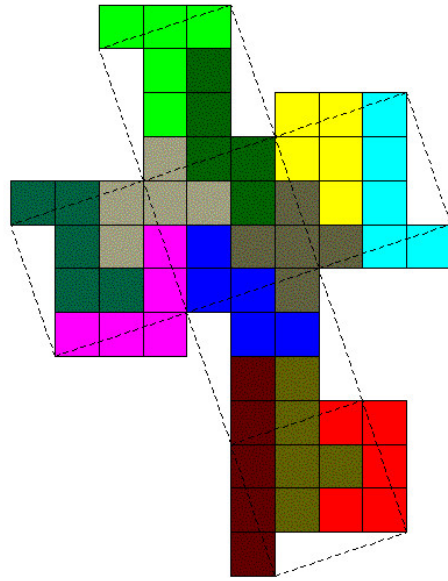


3. Kom på en utvikning till ett rätblock som är 1,5 cm hög, 4 cm bred och 5,5 cm lång. Klipp ut och testa utvikningen!

Under tiden någon klipper ut utvikningen, försök att komma på fler annorlunda utvikningar till samma rätblock. Du behöver inte rita dem snyggt, bara på ett ungefär.

Att tänka på hemma

Konstig nog går även den här formen att vika ihop till kub (testa hemma)!



Kan följande former också vikas ihop till kuber?

